

1. Can Seda Aybüke

Yukarıdaki isimleri hece sayılarına göre incelediğimizde, bu üç kardeşle ilgili aşağıdakilerden hangisi söylenemez?

- A) Can'ın adı, diğer kardeşlerin adından daha az heceye sahiptir.  
 B) Seda'nın adı, Aybüke'nin adından daha kısa heceli bir isimdir.  
 C) Aybüke'nin adı toplam dört heceden oluşmaktadır.

2. Sporcu Aile Planlı  
 ① ② ③

Yukarıdaki numaralandırılmış sözcüklerden hangilerinin hece sayısı birbirine eşittir?

- A) 1 ve 2 B) 1 ve 3 C) 2 ve 3

3. Aşağıdaki sözcüklerden hangisi, sadece bir ünlüden oluşan bir hece ile başlar?

- A) Ekşi B) Okçu C) Adalet

2. Sınıf

4.

- za - man - ra  
 ▲ nus - ok - ya  
 ■ pi - no - ya

Heceleri karışık verilen sözcükleri bularak alfabetik sıraya dizelim. Sözlük sıralamasına göre diğerlerinden sonra gelen sözcük hangisidir?

- A) ● B) ▲ C) ■

vizyonerogretmen.com.tr

5. Mert, bir sözcükteki hece sayısını bulmak için o sözcükte bulunan ünlü harf sayısı kadar madeni parayı kumbarasına atmaktadır.

Buna göre Mert, "Bilgisayar" sözcüğü için kumbarasına kaç adet madeni para atmalıdır?

- A) 3 B) 4 C) 5

6.

Tra-fik	
Ork-est-ra	
Genç-lik	

Yukarıdaki tabloda hecelerine doğru ayrılan sözcüklerin kutucuğuna "D", yanlış ayrılan sözcüklerin kutucuğuna "Y" yazıldığında sütun nasıl görünür?"

- A) 

D
Y
D


      B) 

Y
Y
D

      C) 

D
Y
Y

7. Aşağıdaki görsellerden hangisinin adındaki hece sayısı, "Park" sözcüğünün hece sayısına eşittir?

- A)       B) 
- C) 

8.

Grup	Banka	Spor
Tiyatro	Kral	Piyano
Zorlu	Trafik	Klavye

Tablodaki sözcüklerden kaç tanesi iki hecelidir?

- A) 2      B) 3      C) 4

9.

MAKİNE

- 6 harflidir.  
4 ünlü harfi vardır.  
2 ünsüz harfi vardır.  
3 hecelidir.

Yukarıdaki panoda verilen bilgilerden kaç tanesi doğrudur?

- A) 2      B) 3      C) 4

10.

"Manavdan ..... aldım."

Yukarıdaki cümlenin toplamda sekiz heceli olması için boş bırakılan yere hangi sözcük yazılmalıdır?

- A) muz      B) elma      C) domates

11.

kalem





orkestra



kütüphane



3 heceli      4 heceli      2 heceli  
Görsellerin adlarını, ait oldukları hece sayılarıyla doğru şekilde eşleştirince hangi eşleşme doğru olur?

- A)       B)       C) 