

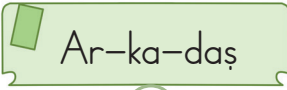


1.  


Numaralandırılmış sözcüklerden hangisi hecelerine yanlış ayrılmıştır?




- A) 1 B) 2 C) 3

2. Yanda görseli verilen varlığın adında aşağıdaki hecelerden hangisi yoktur?



- A) le B) ke C) ek



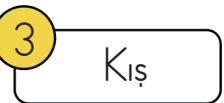

3. Aşağıdaki sözcüklerden hangisinin hece sayısı diğerlerinden farklıdır?

- A)  B) 
 C) 

4.    

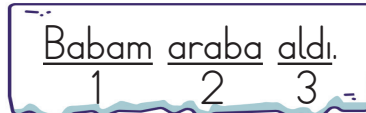
Yukarıdaki hecelerden üç tanesi kullanılarak sözcük oluşturulduğunda, hangisi dışarıda kalır?

- A) ka B) te C) kop

5.  
 

Numaralandırılmış sözcükleri, hece sayılarına göre azdan fazlaya doğru sıraladığımızda doğru dizilim hangisi olur?

- A) 3 - 1 - 4 - 2
 B) 1 - 2 - 3 - 4
 C) 3 - 4 - 1 - 2

6. 

Bu cümledeki numaralandırılmış sözcüklerden hangisinde hece sayısı en fazladır?

- A) 1 B) 2 C) 3

7. Aşağıdaki sözcüklerden hangisi hecelerine yanlış ayrılmıştır?

- A) Göz-lük-çü
B) Ter-lik-çi
C) Yaz-lı-kçı

8. Aşağıdaki görsellerin isimleri hecelerine ayrılarak kutucuklara yazılacaktır.



○ ○ ③



○ ② ○

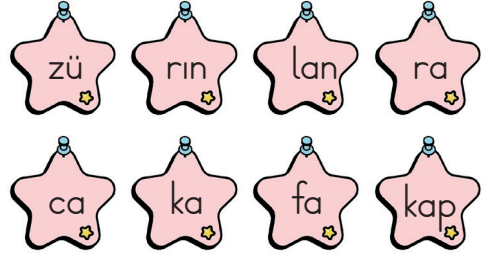
Görsellerin isimleri hecelerine ayrıldığında, numaralandırılmış kutulara sırasıyla hangi heceler gelmelidir?

	3	2
A)	kar	re
B)	ma	ce
C)	na	ce




9. Aşağıdaki sözcüklerden hangisinde "ka" hecesi vardır?

- A) Kartal
B) Karınca
C) Kınalı




10.



Yukarıdaki hece kutucukları kullanılarak aşağıdaki hayvan adlarından hangisi yazılamaz?

- A)  B)  C) 

11. Hangi hayvanın adındaki hece sayısı, "Çekirge" sözcüğünün hece sayısı ile aynıdır?

- A)  B)  C) 

12. Aşağıdaki harflerden hangisi tek başına bir hece oluşturabilir?

- A) m
B) n
C) e